

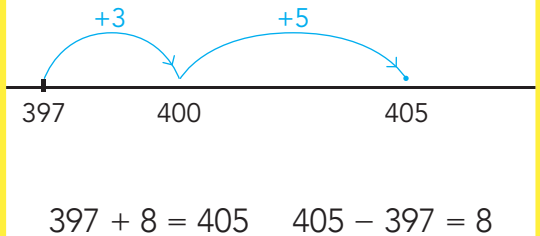
DOEL 1

- Je oefent aftrekken tot en met 1000 met de strategie: aanvullen.
- Je begrijpt de strategie: aanvullen.

HULP



Hoeveel nog sparen?



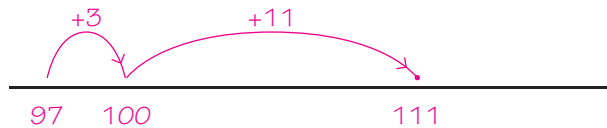
1

Welke sommen horen erbij?

Reken uit op de getallenlijn met aanvullen.



Een boek heeft 111 bladzijden.
Tim heeft al 97 bladzijden gelezen.
Hoeveel bladzijden kan hij nog lezen?

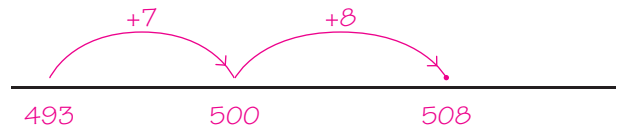


sommen: $111 - 97 = 14$ en

$97 + 14 = 111$

antwoord: **14 bladzijden**

Ana heeft € 493,-.
Zij wil een laptop kopen van € 508,-.
Hoeveel euro moet zij nog sparen?

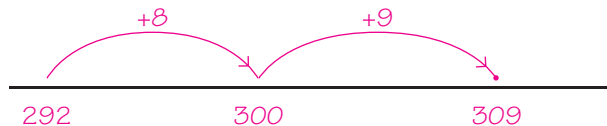


sommen: $508 - 493 = 15$ en

$493 + 15 = 508$

antwoord: **€ 15,-**

Een nieuwe telefoon kost € 309,-.
Suus heeft € 292,-.
Hoeveel moet zij nog sparen?

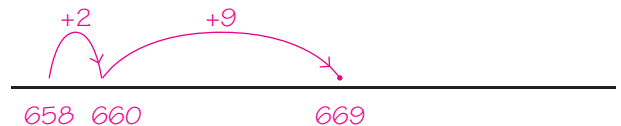


sommen: $309 - 292 = 17$ en

$292 + 17 = 309$

antwoord: **€ 17,-**

We moeten 669 kilometer rijden naar Parijs. We hebben al 658 kilometer gereden. Hoeveel kilometer moeten we nog rijden?



sommen: $669 - 658 = 11$ en

$658 + 11 = 669$

antwoord: **11 kilometer**

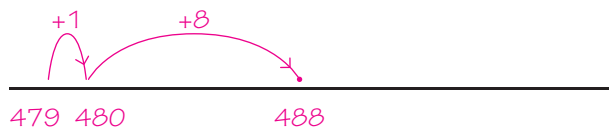
2

Reken uit op de getallenlijn met aanvullen.



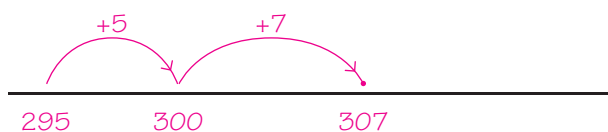
497 500 504

$504 - 497 = \underline{7}$



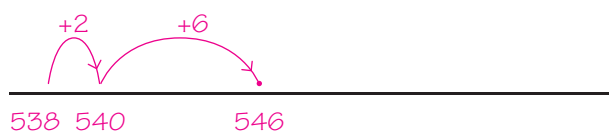
479 480 488

$488 - 479 = \underline{9}$



295 300 307

$307 - 295 = \underline{12}$



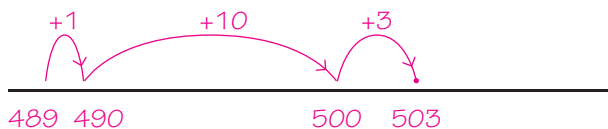
538 540 546

$546 - 538 = \underline{8}$

3

Kruis de sommen aan waarbij aanvullen handig is.

Reken alleen die sommen uit op de getallenlijn.



489 490 500 503

$503 - 489 = \underline{14}$



$275 - 145 = \dots\dots$

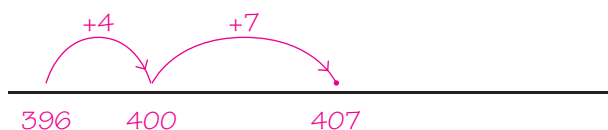


$538 - 351 = \dots\dots$



594 600 602

$602 - 594 = \underline{8}$



396 400 407

$407 - 396 = \underline{11}$



578 580 583

$583 - 578 = \underline{5}$

KLAAR!

DOEL 2

- Je oefent sommen als 4×69 uit te rekenen met de variastrategie: rekenen met te veel.

HULP



Een trui kost € 19,-.
Marlon koopt 3 truien.
Hoeveel moet zij betalen?



som: $3 \times 19 =$

ik betaal: $3 \times 20 = 60$
te veel betaald: $3 \times 1 = 3$
= € 3,-

rekenen met te veel: $3 \times 19 = 3 \times 20 - 3 \times 1 = 60 - 3 = 57$
antwoord: € 57,-


1



Welke som hoort erbij?

Teken en reken uit met te veel.

Op een terras liggen 8 tegels achter elkaar en 29 tegels naast elkaar.
Hoeveel tegels zijn dat?



som: $8 \times 29 = 232$

reken uit met te veel: $8 \times 30 - 8 \times 1 = 240 - 8 = 232$ wwwwwww

antwoord: 232 tegels

Op een terras liggen 6 tegels achter elkaar en 37 tegels naast elkaar.
Hoeveel tegels zijn dat?



som: $6 \times 37 = 222$

reken uit met te veel: $6 \times 40 - 6 \times 3 = 240 - 18 = 222$

antwoord: 222 tegels

2

**Welke som hoort erbij?**

Reken uit met te veel.



€ 49,-



€ 88,-



€ 38,-

Saar koopt 6 truien.
Hoeveel moet zij betalen?

som: $6 \times 38 = 6 \times 40 - 6 \times 2 =$

$240 - 12 = 228$

antwoord: € 228,-

Kris koopt 4 broeken.
Hoeveel moet hij betalen?

som: $4 \times 49 = 4 \times 50 - 4 \times 1 =$

$200 - 4 = 196$

antwoord: € 196,-

Melle koopt 7 broeken.
Hoeveel moet hij betalen?

som: $7 \times 49 = 7 \times 50 - 7 \times 1 =$

$350 - 7 = 343$

antwoord: € 343,-

Bieke koopt 5 jassen.
Hoeveel moet zij betalen?

som: $5 \times 88 = 5 \times 90 - 5 \times 2 =$

$450 - 10 = 440$

antwoord: € 440,-

3

**Reken uit met te veel.**

$8 \times 39 = 8 \times 40 - 8 \times 1 = 320 - 8 = 312$

$4 \times 68 = 4 \times 70 - 4 \times 2 = 280 - 8 = 272$

$9 \times 28 = 9 \times 30 - 9 \times 2 = 270 - 18 = 252$

$6 \times 59 = 6 \times 60 - 6 \times 1 = 360 - 6 = 354$

$5 \times 78 = 5 \times 80 - 5 \times 2 = 400 - 10 = 390$

$3 \times 58 = 3 \times 60 - 3 \times 2 = 180 - 6 = 174$

$8 \times 48 = 8 \times 50 - 8 \times 2 = 400 - 16 = 384$

$4 \times 69 = 4 \times 70 - 4 \times 1 = 280 - 4 = 276$

$8 \times 18 = 8 \times 20 - 8 \times 2 = 160 - 16 = 144$

$7 \times 89 = 7 \times 90 - 7 \times 1 = 630 - 7 = 623$

4

**Kruis de sommen aan waarbij je rekent met te veel.**

Reken alleen die sommen uit.

$8 \times 33 =$

$5 \times 59 = 5 \times 60 - 5 \times 1 = 300 - 5 = 295$

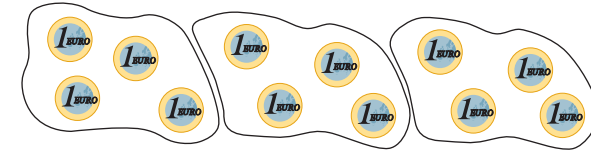
$9 \times 45 =$

$4 \times 79 = 4 \times 80 - 4 \times 1 = 320 - 4 = 316$

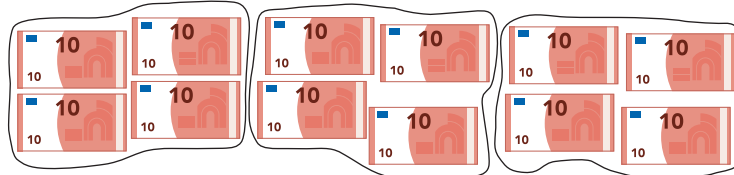
DOEL 3

• Je oefent sommen als $120 : 3$ uit te rekenen met de kleine som $12 : 3$.

HULP



$12 : 3 = 4$



$120 : 3 = 40$

10x zoveel

1

Reken uit.



$28 : 7 = \dots 4$

$280 : 7 = \dots 40$

$20 : 4 = \dots 5$

$200 : 4 = \dots 50$

$36 : 4 = \dots 9$

$360 : 4 = \dots 90$

$54 : 9 = \dots 6$

$540 : 9 = \dots 60$

$48 : 6 = \dots 8$

$480 : 6 = \dots 80$

2

Welke som hoort erbij?

Hoeveel euro krijgt ieder?
Reken uit.



€	verdelen met	deelsom	kleine som	ieder krijgt
€ 250,-	5 mensen	$250 : 5$	$25 : 5 = 5$	€ 50,-
€ 180,-	6 mensen	$180 : 6$	$18 : 6 = 3$	€ 30,-
€ 560,-	8 mensen	$560 : 8$	$56 : 8 = 7$	€ 70,-
€ 160,-	4 mensen	$160 : 4$	$16 : 4 = 4$	€ 40,-

GA VERDER →

3

Welke grote som hoort erbij?

Reken uit.

$21 : 3 = 7$ - 10x zoveel → $210 : 3 = 70$

$24 : 6 = 4$ - 10x zoveel → $240 : 6 = 40$

$35 : 7 = 5$ - 10x zoveel → $350 : 7 = 50$

$60 : 10 = 6$ - 10x zoveel → $600 : 10 = 60$

$64 : 8 = 8$ - 10x zoveel → $640 : 8 = 80$

$24 : 3 = 8$ - 10x zoveel → $240 : 3 = 80$

$72 : 8 = 9$ - 10x zoveel → $720 : 8 = 90$

$63 : 9 = 7$ - 10x zoveel → $630 : 9 = 70$

$36 : 6 = 6$ - 10x zoveel → $360 : 6 = 60$

$81 : 9 = 9$ - 10x zoveel → $810 : 9 = 90$

4

Reken uit met de kleine som.

Schrijf de kleine som in de denkwolk.

$42 : 6 = 7$

$420 : 6 = 70$

$54 : 6 = 9$

$540 : 6 = 90$

$12 : 3 = 4$

$120 : 3 = 40$

$30 : 5 = 6$

$300 : 5 = 60$

$24 : 8 = 3$

$240 : 8 = 30$

$16 : 8 = 2$

$160 : 8 = 20$

$36 : 4 = 9$

$360 : 4 = 90$

$48 : 6 = 8$

$480 : 6 = 80$

$18 : 6 = 3$

$180 : 6 = 30$


$72 : 9 = 8$

$720 : 9 = 80$

DOEL 4

• Je oefent uit te rekenen hoeveel je terugkrijgt als je met te veel betaalt.

HULP



Het kost € 17,85.



Je geeft € 18,00.



Je krijgt € 0,15 terug.

1



Welk bedrag terug?

€ 19,50

Je geeft:

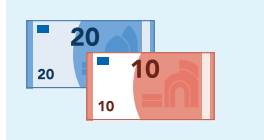


Je krijgt terug:

€ 0,50.

€ 29,45

Je geeft:



Je krijgt terug:

€ 0,55.

€ 49,10

Je geeft:



Je krijgt terug:

€ 0,90.

€ 21,65

Je geeft:



Je krijgt terug:

€ 0,35.

2




Klopt het bedrag?

Je betaalt met 1 biljet van € 20,00.

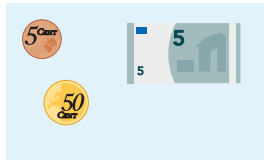
€ 16,15

Je krijgt terug:




€ 14,45

Je krijgt terug:



€ 7,95

Je krijgt terug:



€ 11,65

Je krijgt terug:



GA VERDER →


3

Welk bedrag krijg je terug?



€ 4,85

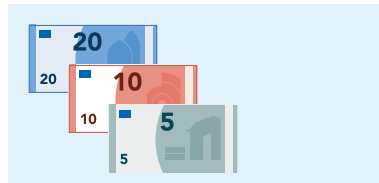
Je geeft:



Je krijgt terug: € 5,15

€ 34,50


Je geeft:



Je krijgt terug: € 0,50

€ 41,60

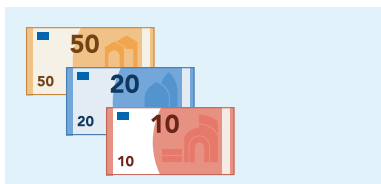
Je geeft:



Je krijgt terug: € 3,40

€ 78,25


Je geeft:



Je krijgt terug: € 1,75

€ 7,35


Je geeft:



Je krijgt terug: € 2,65

€ 45,75

Je geeft:



Je krijgt terug: € 4,25

4

Welk bedrag terug?



€ 42,50

Je geeft:



Je krijgt terug:

€ 2,50

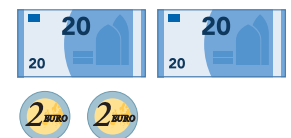
Je geeft:



Je krijgt terug:

€ 7,50

Je geeft:



Je krijgt terug:

€ 1,50

KLAAR!